
















Übungen: Schnittpunkte mit den Koordinatenachsen

	Arbeitsauftrag	
	1. Berechnung des Einstiegsfalls. 	
	2. In dieser Übung können Sie Ihr Wissen nochmals mit Hilfe eines Lückentextes sichern.	
	★ 	★ 
	3. Bearbeiten Sie die LearningApps und berechnen Sie jeweils den Schnittpunkt mit der y-Achse. Kontrollieren Sie Ihre Lösungen. 	
	4. Bearbeiten Sie die LearningApps und berechnen Sie dazu die Nullstellen. Kontrollieren Sie Lösungen.	
	★ 	★ 
	5. Bearbeiten Sie die LearningApps zur Bestimmung der Anzahl der Schnittpunkte mit der x-Achse. Kontrollieren Sie Lösungen.	
	